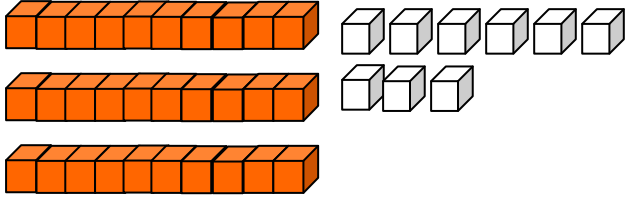


# 國民小學一年級學生數學學習教材（編號：1-1-48）

教材重點：個位和十位的換算

班 學生姓名：\_\_\_\_\_

阿光拿出 3 個 10 和 8 個 1，合起來是多多少？



十位	個位
3	8



有 3 個 10  
和 8 個 1，  
合起來是  
38。

1 條橘色積木  
是 10 個  
白色積木。



38 可以換  
算成 3 個  
10 和 8 個  
1。



一、練習：做一做，看一看，回答下列的問題。

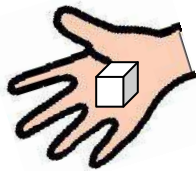
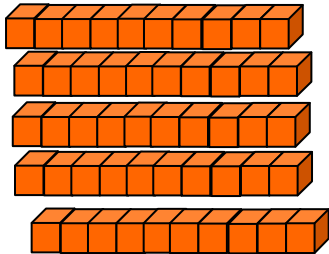
- (1) 4 個 10 和 2 個 1，合起來是 ( )。
- (2) 3 個 10 和 4 個 1，合起來是 ( )。
- (3) 8 個 1 和 2 個 10，合起來是 ( )。
- (4) 6 個 1 和 4 個 10，合起來是 ( )。
- (5) 3 個 10 和 9 個 1，合起來是 ( )。
- (6) 3 個 1 和 2 個 10，合起來是 ( )。
- (7) 43 可以換算成 ( ) 個 10 和 ( ) 個 1。
- (8) 39 可以換算成 ( ) 個 10 和 ( ) 個 1。
- (9) 27 可以換算成 ( ) 個 1 和 ( ) 個 10。
- (10) 49 可以換算成 ( ) 個 1 和 ( ) 個 10。

# 國民小學一年級學生數學學習教材 (編號：1-1-49)

教材重點：認識 100 以內的數

班 學生姓名：\_\_\_\_\_

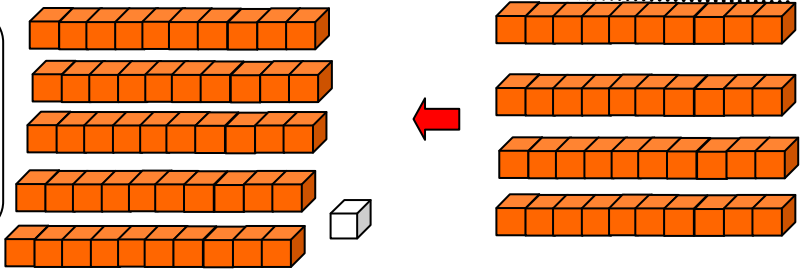
數數看看，共有多少個積木？



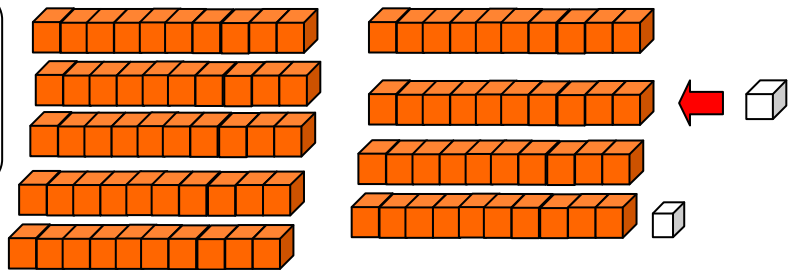
50 再放到進 1 個白色積木，共有幾個？



51 再放到進 4 個 10，共有幾個？

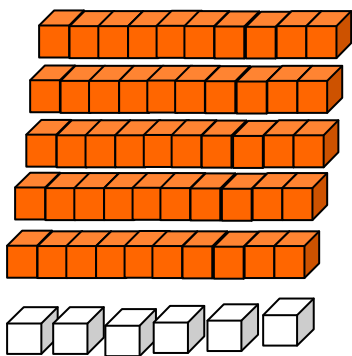


91 再放到進 1 個 1，共有幾個？



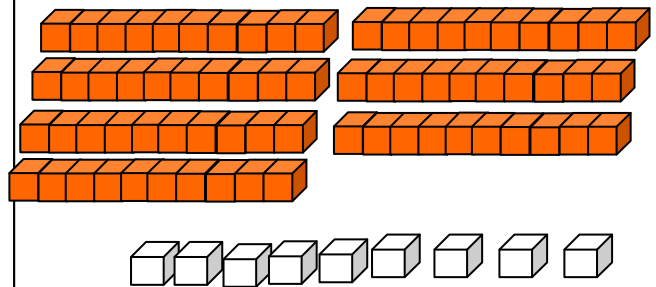
一、數數看看，共有多少個積木？

(1)



共有 ( ) 個積木

(2)



共有 ( ) 個積木